

Всероссийские олимпиады школьников

Математический этап ОВЭР

учеников 11 класса

Семёнов Александр

38 + 17 = 55

Всероссийская олимпиада школьников 2025-2026 учебный год
Школьный этап. ОБЖ, 10-11 классы, **ЗАДАНИЯ**
Время выполнения 45 мин+ 15 минут. Максимальное кол-во баллов – 100+100=200

ТЕОРЕТИЧЕСКИЙ ТУР

Уважаемый участник Олимпиады!

Вам предстоит выполнить теоретические и тестовые задания.

Выполнение теоретических заданий целесообразно организовать следующим образом:

- не спеша, внимательно прочитайте задание и определите, наиболее верный и полный ответ;
- отвечая на теоретический вопрос, обдумайте и сформулируйте конкретный ответ только на поставленный вопрос;
- если вы отвечаете на задание, связанное с заполнением таблицы или схемы, не старайтесь детализировать информацию, вписывайте только те сведения или данные, которые указаны в вопросе;
- особое внимание обратите на задания, в выполнении которых требуется выразить ваше мнение с учетом анализа ситуации или поставленной проблемы. Внимательно и вдумчиво определите смысл вопроса и логику ответа (последовательность и точность изложения). Отвечая на вопрос, предлагайте свой вариант решения проблемы, при этом ответ должен быть кратким, но содержать необходимую информацию;
- после выполнения всех предложенных заданий еще раз удостоверьтесь в правильности выбранных вами ответов и решений.

Выполнение тестовых заданий целесообразно проводить следующим образом:

- не спеша, внимательно прочитайте тестовое задание;
- определите, какой из предложенных вариантов ответа наиболее верный и полный;
- обведите кружком букву, соответствующую выбранному вами ответу;
- продолжайте таким образом работу до завершения выполнения тестовых заданий;
- после выполнения всех предложенных заданий еще раз удостоверьтесь в правильности выбранных вами ответов и перенесите их в бланк для ответов;
- если потребуется корректировка выбранного Вами варианта ответа, то неправильный вариант ответа зачеркните крестиком, а новый выбранный ответ обведите кружком.

Предупреждаем Вас, что:

- при оценке тестовых заданий, где необходимо определить *один правильный ответ*, 0 баллов выставляется как за неверный ответ, а также, если участником отмечены несколько ответов (в том числе правильный), или все ответы;
- при оценке тестовых заданий, где необходимо определить *все правильные ответы*, 0 баллов выставляется, если участником отмечены более 2-х ответов, или все ответы (в том числе правильные).

Задание теоретического тура считается выполненным, если Вы вовремя сдаете его членам жюри.

Желаем вам успеха!

Общая оценка результата участника 100 баллов

ТЕОРЕТИЧЕСКИЕ ЗАДАНИЯ

ЗАДАНИЕ 1 Максимальный балл -30

1.1 Назовите факторы риска для здоровья, связанные с урбанизацией (ростом городов и городского населения).

- ⊙ Изменение микроклимата.
- ⊙ Загрязнённость естественной среды городов.
 - Шум, вибрация.
- ⊙ Возрастание темпа и напряжённости жизни, приводящее к стрессовым состояниям.
 - Большая плотность населения.
 - Большое количество транспорта.

1.2. Каковы основные признаки отравления человека никотином?

1) Покраснение лица, повышение температуры тела.

- ⊙ Кашель, тошнота.
- ⊙ Головокружение.
- ⊙ Горечь во рту.
 - Снижение остроты зрения.
 - Отсутствие аппетита.
- **Какую помощь необходимо оказать пострадавшему при алкогольном отравлении?**
 - Положить на живот горячую грелку.
- ⊙ Уложить набок и очистить дыхательные пути, а также промыть желудок.
 - Дать выпить большое количество (2-3 литра) воды.
- ⊙ Положить на голову холодный компресс и вызвать «скорую помощь».
- ⊙ Дать понюхать ватку, смоченную нашатырным спиртом.
 - Дать выпить кофе и накрыть одеялом.

1.4. Какую помощь следует оказать пострадавшему при наркотическом отравлении?

- 1) Уложить пострадавшего на спину.
- 2) Поместить пострадавшего в тёплое помещение.
- ⊙ 3) Очистить дыхательные пути пострадавшего.
- 4) Растереть пострадавшего одеколоном или спиртом.
- ⊙ 5) Уложить пострадавшего на бок или живот.
- ⊙ 6) Дать понюхать пострадавшему ватку, смоченную в нашатырном спирте и вызвать «скорую помощь».

• **Какую помощь необходимо оказать пострадавшему при отравлении лекарственными препаратами?**

- 1) Дать обезболивающее средство.
- ⊙ 2) Вызвать «скорую помощь».
- ⊙ 3) Промыть пострадавшему желудок.
- 4) Сделать искусственное дыхание.
- ⊙ 5) Дать пострадавшему крепкого чая (кофе) и чёрных сухарей.
- 6) Дать выпить стакан молока.

Оценочные баллы: максимальный – 30 баллов; фактический - 12 баллов

ЗАДАНИЕ 2. Максимальный балл - 22

2.1. Дайте определение:

Туристская маркировка – это система знаков, числовых обозначений, которые

2.2. Напишите, что означают представленные ниже знаки туристской маркировки.

Знак	Характеристика
	<p>Ростоприимчивость</p> <p style="text-align: right;">7</p>
	<p>Палатки</p> <p style="text-align: right;">7</p>
	<p>Брод</p>
	<p>Автобусная остановка</p> <p style="text-align: right;">7</p>
	<p>Место для разведения костра</p> <p style="text-align: right;">7</p>
	<p>Привоз запрещен</p> <p style="text-align: right;">7</p>
	<p>Место опасное для купания</p> <p style="text-align: right;">7</p>
	<p>Трассы запрещены</p> <p style="text-align: right;">7</p>

2.3. Дайте определение:

Туризм - вид деятельности людей за пределами их постоянного места жительства с целью отдыха, развлечения и т.д. (органizationalно-хозяйств. деят. путеш. и др.) - ~~10~~ 11 баллов

Оценочные баллы: максимальный - 22 баллов; фактический - 11 баллов

ЗАДАНИЕ 3. Максимальный балл - 28

3.1. Вставьте пропущенные фразы в текст.

Куликовская битва (1, укажите год) 1380 между русским войском во главе с великим князем (2) Дмитрием Ивановичем и войском Золотой Орды под командованием темника (3) Мамыя на Куликовом поле – одна из крупнейших битв, положившая начало освобождению народов Восточной Европы от (4) монгола-татарского ига. После Куликовской битвы Великий князь получил почетное прозвище (5) Долгорукий.

3.2. Заполните таблицу

№	Название награды	Статус награды
1	Орден Александра Невского	Советская награда времён Великой Отечественной войны. Учреждён указом Президиума Верховного Совета СССР от 29 июля 1942 одновременно с орденами Суворова и Кутузова для награждения командного состава Красной Армии за выдающиеся заслуги в организации и руководстве боевыми операциями и за достигнутые в результате этих операций успехи в боях за Родину. Этим орденом награждались командиры дивизий, бригад, полков, батальонов, рот и взводов.
2	Орден Суворова	Советская награда времён Великой Отечественной войны. Учреждён Указом Президиума Верховного Совета СССР от 29 июля 1942 года. Этим орденом награждались командиры Красной Армии за выдающиеся успехи в деле управления войсками, отличную организацию боевых операций и проявленные при этом решительность и настойчивость в их проведении, в результате чего была достигнута победа в боях за Родину в Отечественной войне. Также награждались войсковые части.
3	Орден Ушакова	Советская флотская награда времён Великой Отечественной войны. Учреждён Указом Президиума ВС СССР от 3.03.1944 об учреждении военных орденов: этот орден и ордена Нахимова I и II степени, одновременно с орденом Нахимова специально для награждения офицеров Военно-Морского Флота. Этим орденом награждаются офицеры Военно-Морского Флота за выдающиеся успехи в разработке, проведении и обеспечении морских активных операций, в результате чего в боях за Родину была достигнута победа над численно превосходящим врагом.
4	Орден Славы	Военный орден СССР, учреждён Указом Президиума ВС СССР от 8.11.1943 «Об учреждении ордена Славы I, II и III степени». Награждаются лица рядового и сержантского состава Красной Армии, а в авиации — и лица, имеющие звание младшего лейтенанта. Вручался только за личные заслуги, воинские части и соединения им не награждались. Орден Славы по своему статусу и цвету ленты почти полностью повторял одну из самых почитаемых в дореволюционной России наград — Георгиевский крест. Этим орденом награждаются лица рядового и сержантского состава Красной Армии, а в авиации и лица, имеющие звание младшего лейтенанта, проявившие в боях за Советскую Родину славные подвиги храбрости, мужества и бесстрашия. Этот орден состоит из трёх степеней: I, II и III степени. Высшей степенью ордена является I степень. Награждение производится последовательно: сначала третьей, затем второй и, наконец, первой степенью.
5	Медаль «За отвагу»	Гос. награда СССР, РФ и Беларуси. Была учреждена 17 октября 1937 года для воинов Красной Армии, Военно-морского флота и пограничников.

3.3. Ответьте на вопросы

1. За три недели до вторжения фашистов в нашу страну советский разведчик передал в Москву, что война начнется 22 июня. Кто был этим разведчиком?

Рихард Зорге

2. Как назывался план вторжения в СССР? *План "Барбаросса"*
3. Что такое в военном деле «свинья», «клещи»? *Боевой порядок войск*
4. Какую военную операцию немецко-фашистское командование называло операцией «Тайфун»? *Наступление на Москву [1941 год]*

Оценочные баллы: максимальный – 28 баллов; фактический – 18 баллов

ТЕСТОВЫЕ ЗАДАНИЯ

№ п/п	Вопрос	Ответы кол-во	
1	Признаком отравления аммиаком не является: <input type="radio"/> А) кашель, удушье; <input checked="" type="radio"/> Б) насморк, покраснение кожи; <input type="radio"/> В) химический ожог слизистых при вдыхании.	2	0
2	Включенные в сеть электроприборы запрещено тушить при помощи: <input checked="" type="radio"/> А) воды; <input type="radio"/> Б) одеяла; <input type="radio"/> В) огнетушителя.	1	1
3	Линии, стрелы, надписи и другие обозначения, которые наносятся на различные элементы дороги – это: <input checked="" type="radio"/> А) дорожная разметка; <input type="radio"/> Б) пешеходный переход; <input type="radio"/> В) дорожные знаки.	1	1
4	Признаками перелома являются: <input type="radio"/> А) тошнота и рвота, нарушение функции конечности, ее деформация и подвижность; <input checked="" type="radio"/> Б) нарушение функции конечности, сильная боль при попытке движения ею, деформация и некоторое ее укорочение, подвижность костей в необычном месте; <input type="radio"/> В) временная потеря зрения и слуха, появление сильной боли при попытке движения конечностью.	1	0
5	При аварии на химическом предприятии, если отсутствуют индивидуальные средства защиты, убежище и возможность выхода из зоны аварии последовательность ваших действий: <input type="radio"/> А) выключить радио, отойти от окон и дверей и загерметизировать помещение; <input type="radio"/> Б) включить радио, перенести ценные вещи в подвал или отдельную комнату и подавать сигналы о помощи; <input checked="" type="radio"/> В) включить радио и прослушать информацию, закрыть окна и двери, входные двери закрыть плотной тканью и загерметизировать помещение.	1	1
6	Выходить из зоны химического заражения следует: <input type="radio"/> А) по направлению ветра; <input type="radio"/> Б) навстречу потоку ветра; <input checked="" type="radio"/> В) перпендикулярно направлению ветра.	1	1
7	К чрезвычайным ситуациям экологического характера относятся: <input checked="" type="radio"/> А) образование обширной зоны кислотных осадков; <input type="radio"/> Б) прорыв дамбы, плотины; <input checked="" type="radio"/> В) гибель растительности на обширной территории;	2	2

Куликовская битва (1, укажите год) 1380 между русским войском во главе с великим князем (2) Дмитрием Ивановичем и войском Золотой Орды под командованием темника (3) Мамай на Куликовом поле – одна из крупнейших битв, положившая начало освобождению народов Восточной Европы от (4) монголо-татарского ила. После Куликовской битвы Великий князь получил почетное прозвище (5) Долгорукий.

3.2. Заполните таблицу


№	Название награды	Статус награды
1	Орден Александра Невского	Советская награда времён Великой Отечественной войны. Учреждён указом Президиума Верховного Совета СССР от 29 июля 1942 одновременно с орденами Суворова и Кутузова для награждения командного состава Красной Армии за выдающиеся заслуги в организации и руководстве боевыми операциями и за достигнутые в результате этих операций успехи в боях за Родину. Этим орденом награждались командиры дивизий, бригад, полков, батальонов, рот и взводов.
2	Орден Суворова	Советская награда времён Великой Отечественной войны. Учреждён Указом Президиума Верховного Совета СССР от 29 июля 1942 года. Этим орденом награждались командиры Красной Армии за выдающиеся успехи в деле управления войсками, отличную организацию боевых операций и проявленные при этом решительность и настойчивость в их проведении, в результате чего была достигнута победа в боях за Родину в Отечественной войне. Также награждались войсковые части.
3	Орден Ушакова	Советская флотская награда времён Великой Отечественной войны. Учреждён Указом Президиума ВС СССР от 3.03.1944 об учреждении военных орденов: этот орден и ордена Нахимова I и II степени, одновременно с орденом Нахимова специально для награждения офицеров Военно-Морского Флота. Этим орденом награждаются офицеры Военно-Морского Флота за выдающиеся успехи в разработке, проведении и обеспечении морских активных операций, в результате чего в боях за Родину была достигнута победа над численно превосходящим врагом.
4	Орден Славы	Военный орден СССР, учреждён Указом Президиума ВС СССР от 8.11.1943 «Об учреждении ордена Славы I, II и III степени». Награждаются лица рядового и сержантского состава Красной Армии, а в авиации — и лица, имеющие звание младшего лейтенанта. Вручался только за личные заслуги, воинские части и соединения им не награждались. Орден Славы по своему статусу и цвету ленты почти полностью повторял одну из самых почитаемых в дореволюционной России наград — Георгиевский крест. Этим орденом награждаются лица рядового и сержантского состава Красной Армии, а в авиации и лица, имеющие звание младшего лейтенанта, проявившие в боях за Советскую Родину славные подвиги храбрости, мужества и бесстрашия. Этот орден состоит из трёх степеней: I, II и III степени. Высшей степенью ордена является I степень. Награждение производится последовательно: сначала третьей, затем второй и, наконец, первой степени.
5	Медаль «За отвагу»	Гос. награда СССР, РФ и Беларуси. Была учреждена 5 октября 1953 года для воинов Красной Армии, Военно-Морского флота и сотрудников органов государственной безопасности.

3.3. Ответьте на вопросы

1. За три недели до вторжения фашистов в нашу страну советский разведчик передал в Москву, что война начнется 22 июня. Кто был этим разведчиком?

Рихард Зорге

	Г) лесной пожар.		
8	<p>Из нижеперечисленных объектов выберите те, которые могут являться линейными ориентирами:</p> <p><input checked="" type="radio"/> А) линии электропередач и дороги;</p> <p><input type="radio"/> Б) летящий самолет;</p> <p><input type="radio"/> В) движущийся автотранспорт и сельскохозяйственная техника;</p> <p><input checked="" type="radio"/> Г) граница леса, просека.</p>	2	L
9	<p>Где разрешается размещать ручную кладь пассажиру во время перелёта?</p> <p><input type="radio"/> А) под своими ногами;</p> <p><input checked="" type="radio"/> Б) под сиденьем впереди стоящего кресла;</p> <p><input type="radio"/> В) в проходе справа от сиденья</p> <p><input checked="" type="radio"/> Г) на полке, расположенной над местом пассажира.</p>	2	L
10	<p>Какие существуют варианты эвакуационных мероприятий в зависимости от охвата ими населения?</p> <p><input checked="" type="radio"/> А) общая эвакуация;</p> <p><input type="radio"/> Б) экстренная эвакуация;</p> <p><input type="radio"/> В) временная эвакуация;</p> <p><input checked="" type="radio"/> Г) частичная эвакуация</p>	2	L
11	<p>По команде выйти из строя, сколько шагов выполняет военнослужащий:</p> <p><input type="radio"/> А) 2 шага;</p> <p><input checked="" type="radio"/> Б) 3 шага;</p> <p><input type="radio"/> В) 1 шаг;</p> <p><input type="radio"/> Г) 4 шага;</p>	1	1
12	<p>Во время движения в салоне автобуса начался пожар. Каковы ваши действия?</p> <p><input type="radio"/> А) не предупредив водителя, попытаетесь потушить огонь с помощью огнетушителя или накрыть верхней одеждой очаг возгорания;</p> <p><input checked="" type="radio"/> Б) разобьёте боковое окно транспортного средства;</p> <p><input type="radio"/> В) предупредив водителя, попытаетесь по возможности потушить огонь с помощью огнетушителя, если он есть в салоне, или накрыть верхней одеждой очаг возгорания;</p> <p><input type="radio"/> Г) займёте место в салоне подальше от места возгорания.</p>	1	1
13	<p>При пожаре в самолёте, находящемся в аэропорту, необходимо:</p> <p><input type="radio"/> А) защититься одеждой, пригнуться и ждать, пока потушат пожар или вас выведут из горящего самолёта;</p> <p><input checked="" type="radio"/> Б) защититься одеждой и, низко пригнувшись, пробираться к выходу;</p> <p><input type="radio"/> В) бежать к выходу, чтобы как можно быстрее покинуть самолёт;</p> <p><input type="radio"/> Г) лечь на пол самолёта и ждать команду на эвакуацию.</p>	1	1
14	<p>Что нужно сделать в первую очередь при нахождении в местах массового скопления людей, чтобы при возникновении чрезвычайной ситуации не попасть в толпу?</p> <p><input type="radio"/> А) Вести себя как обычно, быть ближе к тем, с кем общаешься;</p> <p><input type="radio"/> Б) Изучать правила безопасного поведения;</p>	1	1

	В) Приготовить мобильный телефон; <input checked="" type="radio"/> Г) Заранее наметить пути возможного отхода.		
15	Количественные нормы загрязняющих атмосферу, почву и воду химических веществ носят название: А) предельно допустимые низкие концентрации; Б) предельно допустимые нормы количества; <input checked="" type="radio"/> В) предельно допустимые нормы концентрации;	1	

Взрослая олимпиада
по ОБСР

ученика 11 класса
Лесова Владимира

0-114
36. 717/48

Всероссийская олимпиада школьников 2025-2026 учебный год
Школьный этап. ОБЖ, 10-11 классы, **ЗАДАНИЯ**
Время выполнения 45 мин+ 15 минут. Максимальное кол-во баллов – 100+100=200

ТЕОРЕТИЧЕСКИЙ ТУР

Уважаемый участник Олимпиады!

Вам предстоит выполнить теоретические и тестовые задания.

Выполнение теоретических заданий целесообразно организовать следующим образом:

- не спеша, внимательно прочитайте задание и определите, наиболее верный и полный ответ;
- отвечая на теоретический вопрос, обдумайте и сформулируйте конкретный ответ только на поставленный вопрос;
- если вы отвечаете на задание, связанное с заполнением таблицы или схемы, не старайтесь детализировать информацию, вписывайте только те сведения или данные, которые указаны в вопросе;
- особое внимание обратите на задания, в выполнении которых требуется выразить ваше мнение с учетом анализа ситуации или поставленной проблемы. Внимательно и вдумчиво определите смысл вопроса и логику ответа (последовательность и точность изложения). Отвечая на вопрос, предлагайте свой вариант решения проблемы, при этом ответ должен быть кратким, но содержать необходимую информацию;
- после выполнения всех предложенных заданий еще раз удостоверьтесь в правильности выбранных вами ответов и решений.

Выполнение тестовых заданий целесообразно проводить следующим образом:

- не спеша, внимательно прочитайте тестовое задание;
- определите, какой из предложенных вариантов ответа наиболее верный и полный;
- обведите кружком букву, соответствующую выбранному вами ответу;
- продолжайте таким образом работу до завершения выполнения тестовых заданий;
- после выполнения всех предложенных заданий еще раз удостоверьтесь в правильности выбранных вами ответов и перенесите их в бланк для ответов;
- если потребуется корректировка выбранного Вами варианта ответа, то неправильный вариант ответа зачеркните крестиком, а новый выбранный ответ обведите кружком.

Предупреждаем Вас, что:

- при оценке тестовых заданий, где необходимо определить *один правильный ответ*, 0 баллов выставляется как за неверный ответ, а также, если участником отмечены несколько ответов (в том числе правильный), или все ответы;
- при оценке тестовых заданий, где необходимо определить *все правильные ответы*, 0 баллов выставляется, если участником отмечены более 2-х ответов, или все ответы (в том числе правильные).

Задание теоретического тура считается выполненным, если Вы вовремя сдаете его членам жюри.

Желаем вам успеха!

Общая оценка результата участника 100 баллов

ТЕОРЕТИЧЕСКИЕ ЗАДАНИЯ

ЗАДАНИЕ 1 Максимальный балл -30

1.1 Назовите факторы риска для здоровья, связанные с урбанизацией (ростом городов и городского населения).

- Изменение микроклимата.
- Загрязнённость естественной среды городов.
- Шум, вибрация.
- Возрастание темпа и напряжённости жизни, приводящее к стрессовым состояниям.
- Большая плотность населения.
 - Большое количество транспорта.

1.2. Каковы основные признаки отравления человека никотином?

- Покраснение лица, повышение температуры тела.
- Кашель, тошнота.
- Головокружение.
- Горечь во рту.
 - Снижение остроты зрения.
 - Отсутствие аппетита.
- **Какую помощь необходимо оказать пострадавшему при алкогольном отравлении?**
 - Положить на живот горячую грелку.
- Уложить набок и очистить дыхательные пути, а также промыть желудок.
 - Дать выпить большое количество (2-3 литра) воды.
- Положить на голову холодный компресс и вызвать «скорую помощь».
- Дать понюхать ватку, смоченную нашатырным спиртом.
 - Дать выпить кофе и накрыть одеялом.

1.4. Какую помощь следует оказать пострадавшему при наркотическом отравлении?

- 1) Уложить пострадавшего на спину.
- 2) Поместить пострадавшего в тёплое помещение.
- 3) Очистить дыхательные пути пострадавшего.
- 4) Растереть пострадавшего одеколоном или спиртом.
- 5) Уложить пострадавшего на бок или живот.
- 6) Дать понюхать пострадавшему ватку, смоченную в нашатырном спирте и вызвать «скорую помощь».

• **Какую помощь необходимо оказать пострадавшему при отравлении лекарственными препаратами?**

- 1) Дать обезболивающее средство.
- 2) Вызвать «скорую помощь».
- 3) Промыть пострадавшему желудок.
- 4) Сделать искусственное дыхание.
- 5) Дать пострадавшему крепкого чая (кофе) и чёрных сухарей.
- 6) Дать выпить стакан молока.

Оценочные баллы: максимальный – 30 баллов; фактический - 15 баллов





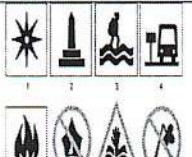
ЗАДАНИЕ 2. Максимальный балл - 22

2.1. Дайте определение:

Туристская маркировка –

это система специальных условий обозначений, которые вводятся на летние предметы для рекламы туристских маршрутов

2.2. Напишите, что означают представленные ниже знаки туристской маркировки.

Знак	Характеристика
	Демонстрация мелиорации †
	Палеонтология или палеонтологический музей †
	Туризм †
	Автомобильная стоянка †
	Место для разведения копытца †
	Туризм запрещен †
	Место для разведения копытца †
	Туризм запрещено †

2.3. Дайте определение:

Туризм - путешествия, с целью отдыха, познания, занятий спортом или ^{любимого} спорта или
 Оценочные баллы: максимальный - 22 баллов; фактический - 11 баллов

ЗАДАНИЕ 3. Максимальный балл - 28

3.1. Вставьте пропущенные фразы в текст.

Куликовская битва (1, укажите год) 1380 между русским войском во главе с великим князем (2) Дмитрием Ивановичем и войском Золотой Орды под командованием темника (3) Мамыя на Куликовом поле – одна из крупнейших битв, положившая начало освобождению народов Восточной Европы от (4) монго-татарского иго. После Куликовской битвы Великий князь получил почетное прозвище (5) Донской.

3.2. Заполните таблицу

№	Название награды	Статус награды
1	Орден Александра Невского	Советская награда времён Великой Отечественной войны. Учреждён указом Президиума Верховного Совета СССР от 29 июля 1942 одновременно с орденами Суворова и Кутузова для награждения командного состава Красной Армии за выдающиеся заслуги в организации и руководстве боевыми операциями и за достигнутые в результате этих операций успехи в боях за Родину. Этим орденом награждались командиры дивизий, бригад, полков, батальонов, рот и взводов.
2	Орден Суворова	Советская награда времён Великой Отечественной войны. Учреждён Указом Президиума Верховного Совета СССР от 29 июля 1942 года. Этим орденом награждались командиры Красной Армии за выдающиеся успехи в деле управления войсками, отличную организацию боевых операций и проявленные при этом решительность и настойчивость в их проведении, в результате чего была достигнута победа в боях за Родину в Отечественной войне. Также награждались войсковые части.
3	Орден Ушакова	Советская флотская награда времён Великой Отечественной войны. Учреждён Указом Президиума ВС СССР от 3.03.1944 об учреждении военных орденов: этот орден и ордена Нахимова I и II степени, одновременно с орденом Нахимова специально для награждения офицеров Военно-Морского Флота. Этим орденом награждаются офицеры Военно-Морского Флота за выдающиеся успехи в разработке, проведении и обеспечении морских активных операций, в результате чего в боях за Родину была достигнута победа над численно превосходящим врагом.
4	Орден Славы	Военный орден СССР, учреждён Указом Президиума ВС СССР от 8.11.1943 «Об учреждении ордена Славы I, II и III степени». Награждаются лица рядового и сержантского состава Красной Армии, а в авиации — и лица, имеющие звание младшего лейтенанта. Вручался только за личные заслуги, воинские части и соединения им не награждались. Орден Славы по своему статусу и цвету ленты почти полностью повторял одну из самых почитаемых в дореволюционной России наград — Георгиевский крест. Этим орденом награждаются лица рядового и сержантского состава Красной Армии, а в авиации и лица, имеющие звание младшего лейтенанта, проявившие в боях за Советскую Родину славные подвиги храбрости, мужества и бесстрашия. Этот орден состоит из трёх степеней: I, II и III степени. Высшей степенью ордена является I степень. Награждение производится последовательно: сначала третьей, затем второй и, наконец, первой степенью.
5	Медаль «За отвагу»	Боев. награда РФ, вручалась за мужество и отвагу, проявленное в боях и во время мирн. операций по обесп. гос. безопасности

3.3. Ответьте на вопросы

1. За три недели до вторжения фашистов в нашу страну советский разведчик передал в Москву, что война начнется 22 июня. Кто был этим разведчиком?

Рихард Зорге


2. Как назывался план вторжения в СССР? *план "Барбаросса"*
 3. Что такое в военном деле «свинья», «клещи»? *на бой по плану действий*
 4. Какую военную операцию немецко-фашистское командование называло операцией «Тайфун»? *Наступление на Москву 1941г*

Оценочные баллы: максимальный – 28 баллов; фактический – 14 баллов

ТЕСТОВЫЕ ЗАДАНИЯ

№ п/п	Вопрос	Ответы кол-во	
1	Признаком отравления аммиаком не является: <input type="radio"/> А) кашель, удушье; <input checked="" type="radio"/> Б) насморк, покраснение кожи; <input type="radio"/> В) химический ожог слизистых при вдыхании.	2	1
2	Включенные в сеть электроприборы запрещено тушить при помощи: <input checked="" type="radio"/> А) воды; <input type="radio"/> Б) одеяла; <input type="radio"/> В) огнетушителя.	1	1
3	Линии, стрелы, надписи и другие обозначения, которые наносятся на различные элементы дороги – это: <input checked="" type="radio"/> А) дорожная разметка; <input type="radio"/> Б) пешеходный переход; <input type="radio"/> В) дорожные знаки.	1	0
4	Признаками перелома являются: <input type="radio"/> А) тошнота и рвота, нарушение функции конечности, ее деформация и подвижность; <input checked="" type="radio"/> Б) нарушение функции конечности, сильная боль при попытке движения ею, деформация и некоторое ее укорочение, подвижность костей в необычном месте; <input type="radio"/> В) временная потеря зрения и слуха, появление сильной боли при попытке движения конечностью.	1	1
5	При аварии на химическом предприятии, если отсутствуют индивидуальные средства защиты, убежище и возможность выхода из зоны аварии последовательность ваших действий: <input type="radio"/> А) выключить радио, отойти от окон и дверей и загерметизировать помещение; <input type="radio"/> Б) включить радио, перенести ценные вещи в подвал или отдельную комнату и подавать сигналы о помощи; <input checked="" type="radio"/> В) включить радио и прослушать информацию, закрыть окна и двери, входные двери закрыть плотной тканью и загерметизировать помещение.	1	1
6	Выходить из зоны химического заражения следует: <input type="radio"/> А) по направлению ветра; <input type="radio"/> Б) навстречу потоку ветра; <input checked="" type="radio"/> В) перпендикулярно направлению ветра.	1	0
7	К чрезвычайным ситуациям экологического характера относятся: <input checked="" type="radio"/> А) образование обширной зоны кислотных осадков; <input type="radio"/> Б) прорыв дамбы, плотины; <input checked="" type="radio"/> В) гибель растительности на обширной территории;	2	1

	Г) лесной пожар.		
8	<p>Из нижеперечисленных объектов выберите те, которые могут являться линейными ориентирами:</p> <p>А) линии электропередач и дороги; Б) летящий самолет; В) движущийся автотранспорт и сельскохозяйственная техника; Г) граница леса, просека.</p>	2	2
9	<p>Где разрешается размещать ручную кладь пассажиру во время перелёта?</p> <p>А) под своими ногами; Б) под сиденьем впереди стоящего кресла; В) в проходе справа от сиденья Г) на полке, расположенной над местом пассажира.</p>	2	1
10	<p>Какие существуют варианты эвакуационных мероприятий в зависимости от охвата ими населения?</p> <p>А) общая эвакуация; Б) экстренная эвакуация; В) временная эвакуация; Г) частичная эвакуация</p>	2	2
11	<p>По команде выйти из строя, сколько шагов выполняет военнослужащий:</p> <p>А) 2 шага; Б) 3 шага; В) 1 шаг; Г) 4 шага;</p>	1	1
12	<p>Во время движения в салоне автобуса начался пожар. Каковы ваши действия?</p> <p>А) не предупредив водителя, попытаетесь потушить огонь с помощью огнетушителя или накрыть верхней одеждой очаг возгорания; Б) разобьёте боковое окно транспортного средства; В) предупредив водителя, попытаетесь по возможности потушить огонь с помощью огнетушителя, если он есть в салоне, или накрыть верхней одеждой очаг возгорания; Г) займёте место в салоне подальше от места возгорания.</p>	1	1
13	<p>При пожаре в самолёте, находящемся в аэропорту, необходимо:</p> <p>А) защититься одеждой, пригнуться и ждать, пока потушат пожар или вас выведут из горящего самолёта; Б) защититься одеждой и, низко пригнувшись, пробираться к выходу; В) бежать к выходу, чтобы как можно быстрее покинуть самолёт; Г) лечь на пол самолёта и ждать команду на эвакуацию.</p>	1	1
14	<p>Что нужно сделать в первую очередь при нахождении в местах массового скопления людей, чтобы при возникновении чрезвычайной ситуации не попасть в толпу?</p> <p>А) Вести себя как обычно, быть ближе к тем, с кем общаешься; Б) Изучать правила безопасного поведения;</p>	1	2

	В) Приготовить мобильный телефон; Ф) Заранее наметить пути возможного отхода.		
15	Количественные нормы загрязняющих атмосферу, почву и воду химических веществ носят название: А) предельно допустимые низкие концентрации; Б) предельно допустимые нормы количества; В) предельно допустимые нормы концентрации;	1	

Всероссийская олимпиада
по ОБЗД

ученика 12 класса

МБОУ СОШ №24

Козлова Елена

30 + 18 = 48

Всероссийская олимпиада школьников 2025-2026 учебный год
Школьный этап. ОБЖ, 10-11 классы, **ЗАДАНИЯ**
Время выполнения 45 мин+ 15 минут. Максимальное кол-во баллов – 100+100=200

ТЕОРЕТИЧЕСКИЙ ТУР

Уважаемый участник Олимпиады!

Вам предстоит выполнить теоретические и тестовые задания.

Выполнение теоретических заданий целесообразно организовать следующим образом:

- не спеша, внимательно прочитайте задание и определите, наиболее верный и полный ответ;
- отвечая на теоретический вопрос, обдумайте и сформулируйте конкретный ответ только на поставленный вопрос;
- если вы отвечаете на задание, связанное с заполнением таблицы или схемы, не старайтесь детализировать информацию, вписывайте только те сведения или данные, которые указаны в вопросе;
- особое внимание обратите на задания, в выполнении которых требуется выразить ваше мнение с учетом анализа ситуации или поставленной проблемы. Внимательно и вдумчиво определите смысл вопроса и логику ответа (последовательность и точность изложения). Отвечая на вопрос, предлагайте свой вариант решения проблемы, при этом ответ должен быть кратким, но содержать необходимую информацию;
- после выполнения всех предложенных заданий еще раз удостоверьтесь в правильности выбранных вами ответов и решений.

Выполнение тестовых заданий целесообразно проводить следующим образом:

- не спеша, внимательно прочитайте тестовое задание;
- определите, какой из предложенных вариантов ответа наиболее верный и полный;
- обведите кружком букву, соответствующую выбранному вами ответу;
- продолжайте таким образом работу до завершения выполнения тестовых заданий;
- после выполнения всех предложенных заданий еще раз удостоверьтесь в правильности выбранных вами ответов и перенесите их в бланк для ответов;
- если потребуется корректировка выбранного Вами варианта ответа, то неправильный вариант ответа зачеркните крестиком, а новый выбранный ответ обведите кружком.

Предупреждаем Вас, что:

- при оценке тестовых заданий, где необходимо определить *один правильный ответ*, 0 баллов выставляется как за неверный ответ, а также, если участником отмечены несколько ответов (в том числе правильный), или все ответы;
- при оценке тестовых заданий, где необходимо определить *все правильные ответы*, 0 баллов выставляется, если участником отмечены более 2-х ответов, или все ответы (в том числе правильные).

Задание теоретического тура считается выполненным, если Вы вовремя сдаете его членам жюри.

Желаем вам успеха!

Общая оценка результата участника 100 баллов

ТЕОРЕТИЧЕСКИЕ ЗАДАНИЯ

ЗАДАНИЕ 1 Максимальный балл -30

1.1 Назовите факторы риска для здоровья, связанные с урбанизацией (ростом городов и городского населения).

- Изменение микроклимата.
- ⓐ Загрязнённость естественной среды городов.
- ⓑ Шум, вибрация.
- ⓐ Возрастание темпа и напряжённости жизни, приводящее к стрессовым состояниям.
- ⓑ Большая плотность населения.
- Большое количество транспорта.

1.2. Каковы основные признаки отравления человека никотином?

- ⓐ Покраснение лица, повышение температуры тела.
- ⓑ Кашель, тошнота.
- ⓑ Головокружение.
- ⓐ Горечь во рту.
- Снижение остроты зрения.
- Отсутствие аппетита.
- **Какую помощь необходимо оказать пострадавшему при алкогольном отравлении?**
- Положить на живот горячую грелку.
- ⓐ Уложить набок и очистить дыхательные пути, а также промыть желудок.
- Дать выпить большое количество (2-3 литра) воды.
- ⓐ Положить на голову холодный компресс и вызвать «скорую помощь».
- ⓐ Дать понюхать ватку, смоченную нашатырным спиртом.
- Дать выпить кофе и накрыть одеялом.

1.4. Какую помощь следует оказать пострадавшему при наркотическом отравлении?

- 1) Уложить пострадавшего на спину.
- 2) Поместить пострадавшего в тёплое помещение.
- ⓑ Очистить дыхательные пути пострадавшего.
- 4) Растереть пострадавшего одеколоном или спиртом.
- ⓑ Уложить пострадавшего на бок или живот.
- ⓑ Дать понюхать пострадавшему ватку, смоченную в нашатырном спирте и вызвать «скорую помощь».

• **Какую помощь необходимо оказать пострадавшему при отравлении лекарственными препаратами?**

- 1) Дать обезболивающее средство.
- ⓑ Вызвать «скорую помощь».
- ⓑ Промыть пострадавшему желудок.
- 4) Сделать искусственное дыхание.
- ⓑ Дать пострадавшему крепкого чая (кофе) и чёрных сухарей.
- 6) Дать выпить стакан молока.

Оценочные баллы: максимальный – 30 баллов; фактический - 20 баллов

ЗАДАНИЕ 2. Максимальный балл - 22

2.1. Дайте определение:

Туристская маркировка – *Этосистема специальных условий обозначений для*

2.2. Напишите, что означают представленные ниже знаки туристской маркировки.

разметки туристических маршрутов.

Знак	Характеристика
 	<p>допустимы там, где есть</p> <p style="text-align: right;">+</p>
 	<p>конятник</p> <p style="text-align: right;">+</p>
 	<p>Брод</p> <p style="text-align: right;">+</p>
 	<p>Животная остановка</p> <p style="text-align: right;">+</p>
 	<p>место для разведения костра</p> <p style="text-align: right;">+</p>
 	<p>отдых закреплен</p> <p style="text-align: right;">+</p>
 	<p>место опасное для куницы</p> <p style="text-align: right;">+</p>
 	<p>запрещено срубать растения</p> <p style="text-align: right;">+</p>

2.3. Дайте определение:

Туризм - *вашичное рекреационная модели в целью отдыха*

Оценочные баллы: максимальный – 22 баллов; фактический - 22 баллов

ЗАДАНИЕ 3. Максимальный балл - 28

3.1. Вставьте пропущенные фразы в текст.

1 - Дмитрий Шанович

Куликовская битва (1, укажите год) 1380 между русским войском во главе с великим князем (2) Владимиром и войском Золотой Орды под командованием темника (3) Мамая на Куликовом поле – одна из крупнейших битв, положившая начало освобождению народов Восточной Европы от (4) Золотой Орды Мамыя - татарского
После Куликовской битвы Великий князь получил почетное прозвище (5) Донской.

3.2. Заполните таблицу

№	Название награды	Статус награды
1 †	<u>Орден Александра Невского</u>	Советская награда времён Великой Отечественной войны. Учреждён указом Президиума Верховного Совета СССР от 29 июля 1942 одновременно с орденами Суворова и Кутузова для награждения командного состава Красной Армии за выдающиеся заслуги в организации и руководстве боевыми операциями и за достигнутые в результате этих операций успехи в боях за Родину. Этим орденом награждались командиры дивизий, бригад, полков, батальонов, рот и взводов.
2 †	<u>Орден Суворова</u>	Советская награда времён Великой Отечественной войны. Учреждён Указом Президиума Верховного Совета СССР от 29 июля 1942 года. Этим орденом награждались командиры Красной Армии за выдающиеся успехи в деле управления войсками, отличную организацию боевых операций и проявленные при этом решительность и настойчивость в их проведении, в результате чего была достигнута победа в боях за Родину в Отечественной войне. Также награждались войсковые части.
3 †	<u>Орден Ушакова</u>	Советская флотская награда времён Великой Отечественной войны. Учреждён Указом Президиума ВС СССР от 3.03.1944 об учреждении военных орденов: этот орден и ордена Нахимова I и II степени, одновременно с орденом Нахимова специально для награждения офицеров Военно-Морского Флота. Этим орденом награждаются офицеры Военно-Морского Флота за выдающиеся успехи в разработке, проведении и обеспечении морских активных операций, в результате чего в боях за Родину была достигнута победа над численно превосходящим врагом.
4 †	<u>Орден Славы</u>	Военный орден СССР, учреждён Указом Президиума ВС СССР от 8.11.1943 «Об учреждении ордена Славы I, II и III степени». Награждаются лица рядового и сержантского состава Красной Армии, а в авиации — и лица, имеющие звание младшего лейтенанта. Вручался только за личные заслуги, воинские части и соединения им не награждались. Орден Славы по своему статусу и цвету ленты почти полностью повторял одну из самых почитаемых в дореволюционной России наград — Георгиевский крест. Этим орденом награждаются лица рядового и сержантского состава Красной Армии, а в авиации и лица, имеющие звание младшего лейтенанта, проявившие в боях за Советскую Родину славные подвиги храбрости, мужества и бесстрашия. Этот орден состоит из трёх степеней: I, II и III степени. Высшей степенью ордена является I степень. Награждение производится последовательно: сначала третьей, затем второй и, наконец, первой степени.
5	Медаль «За отвагу»	

3.3. Ответьте на вопросы

1. За три недели до вторжения фашистов в нашу страну советский разведчик передал в Москву, что война начнется 22 июня. Кто был этим разведчиком?

Дикорд Зорге

2. Как назывался план вторжения в СССР? *Барбаросса +*
 3. Что такое в военном деле «свинья», «клещи»? *равной порядок войск +*
 4. Какую военную операцию немецко-фашистское командование называло операцией «Тайфун»? *Наступление на Москву в 1941г. +*

Оценочные баллы: максимальный – 28 баллов; фактический – 28 баллов

ТЕСТОВЫЕ ЗАДАНИЯ

№ п/п	Вопрос	Ответы кол-во	
1	Признаком отравления аммиаком не является: А) кашель, удушье; Б) насморк, покраснение кожи; В) химический ожог слизистых при вдыхании.	2	/
2	Включенные в сеть электроприборы запрещено тушить при помощи: А) воды; Б) одеяла; В) огнетушителя.	1	/
3	Линии, стрелы, надписи и другие обозначения, которые наносятся на различные элементы дороги – это: А) дорожная разметка; Б) пешеходный переход; В) дорожные знаки.	1	/
4	Признаками перелома являются: А) тошнота и рвота, нарушение функции конечности, ее деформация и подвижность; Б) нарушение функции конечности, сильная боль при попытке движения ею, деформация и некоторое ее укорочение, подвижность костей в необычном месте; В) временная потеря зрения и слуха, появление сильной боли при попытке движения конечностью.	1	/
5	При аварии на химическом предприятии, если отсутствуют индивидуальные средства защиты, убежище и возможность выхода из зоны аварии последовательность ваших действий: А) выключить радио, отойти от окон и дверей и загерметизировать помещение; Б) включить радио, перенести ценные вещи в подвал или отдельную комнату и подавать сигналы о помощи; В) включить радио и прослушать информацию, закрыть окна и двери, входные двери закрыть плотной тканью и загерметизировать помещение.	1	/
6	Выходить из зоны химического заражения следует: А) по направлению ветра; Б) навстречу потоку ветра; В) перпендикулярно направлению ветра.	1	/
7	К чрезвычайным ситуациям экологического характера относятся: А) образование обширной зоны кислотных осадков; Б) прорыв дамбы, плотины; В) гибель растительности на обширной территории;	2	2

	Г) лесной пожар.		
8	<p>Из нижеперечисленных объектов выберите те, которые могут являться линейными ориентирами:</p> <p>А) линии электропередач и дороги;</p> <p>Б) летящий самолет;</p> <p>В) движущийся автотранспорт и сельскохозяйственная техника;</p> <p>Г) граница леса, просека.</p>	2	1
9	<p>Где разрешается размещать ручную кладь пассажиру во время перелёта?</p> <p>А) под своими ногами;</p> <p>Б) под сиденьем впереди стоящего кресла;</p> <p>В) в проходе справа от сиденья</p> <p>Д) на полке, расположенной над местом пассажира.</p>	2	1
10	<p>Какие существуют варианты эвакуационных мероприятий в зависимости от охвата ими населения?</p> <p>А) общая эвакуация;</p> <p>Б) экстренная эвакуация;</p> <p>В) временная эвакуация;</p> <p>Г) частичная эвакуация</p>	2	1
11	<p>По команде выйти из строя, сколько шагов выполняет военнослужащий:</p> <p>А) 2 шага;</p> <p>Б) 3 шага;</p> <p>В) 1 шаг;</p> <p>Г) 4 шага;</p>	1	1
12	<p>Во время движения в салоне автобуса начался пожар. Каковы ваши действия?</p> <p>А) не предупредив водителя, попытаетесь потушить огонь с помощью огнетушителя или накрыть верхней одеждой очаг возгорания;</p> <p>Б) разобьёте боковое окно транспортного средства;</p> <p>В) предупредив водителя, попытаетесь по возможности потушить огонь с помощью огнетушителя, если он есть в салоне, или накрыть верхней одеждой очаг возгорания;</p> <p>Г) займёте место в салоне подальше от места возгорания.</p>	1	1
13	<p>При пожаре в самолёте, находящемся в аэропорту, необходимо:</p> <p>А) защититься одеждой, пригнуться и ждать, пока потушат пожар или вас выведут из горящего самолёта;</p> <p>Б) защититься одеждой и, низко пригнувшись, пробираться к выходу;</p> <p>В) бежать к выходу, чтобы как можно быстрее покинуть самолёт;</p> <p>Г) лечь на пол самолёта и ждать команду на эвакуацию.</p>	1	1
14	<p>Что нужно сделать в первую очередь при нахождении в местах массового скопления людей, чтобы при возникновении чрезвычайной ситуации не попасть в толпу?</p> <p>А) Вести себя как обычно, быть ближе к тем, с кем общаешься;</p> <p>Б) Изучать правила безопасного поведения;</p>	1	1

	<input type="radio"/> В) Приготовить мобильный телефон; <input checked="" type="radio"/> Г) Заранее наметить пути возможного отхода.		
15	Количественные нормы загрязняющих атмосферу, почву и воду химических веществ носят название: А) предельно допустимые низкие концентрации; Б) предельно допустимые нормы количества; <input checked="" type="radio"/> В) предельно допустимые нормы концентрации;	1	/

Всероссийская олимпиада школьников
2025-2026 учебный год по ОБЗР в класс А
Куртковой Светланы.

46 F 9 = 54

Всероссийская олимпиада школьников 2025-2026 учебный год
Школьный этап. ОБЖ, 5-6 классы, **ЗАДАНИЯ**
Время выполнения 45 мин. Максимальное кол-во баллов – 100

ТЕОРЕТИЧЕСКИЙ ТУР

Уважаемый участник Олимпиады!

Вам предстоит выполнить теоретические и тестовые задания.

Выполнение теоретических заданий целесообразно организовать следующим образом:

- не спеша, внимательно прочитайте задание и определите, наиболее верный и полный ответ;
- отвечая на теоретический вопрос, обдумайте и сформулируйте конкретный ответ только на поставленный вопрос;
- если вы отвечаете на задание, связанное с заполнением таблицы или схемы, не старайтесь детализировать информацию, вписывайте только те сведения или данные, которые указаны в вопросе;
- особое внимание обратите на задания, в выполнении которых требуется выразить ваше мнение с учетом анализа ситуации или поставленной проблемы. Внимательно и вдумчиво определите смысл вопроса и логику ответа (последовательность и точность изложения). Отвечая на вопрос, предлагайте свой вариант решения проблемы, при этом ответ должен быть кратким, но содержать необходимую информацию;
- после выполнения всех предложенных заданий еще раз удостоверьтесь в правильности выбранных вами ответов и решений и перенесите их в бланк ответов.

Выполнение тестовых заданий целесообразно проводить следующим образом:

- не спеша, внимательно прочитайте тестовое задание;
- определите, какой из предложенных вариантов ответа наиболее верный и полный;
- обведите кружком букву, соответствующую выбранному вами ответу;
- продолжайте таким образом работу до завершения выполнения тестовых заданий;
- после выполнения всех предложенных заданий еще раз удостоверьтесь в правильности выбранных вами ответов и перенесите их в бланк ответов;
- если потребуется корректировка выбранного Вами варианта ответа, то неправильный вариант ответа зачеркните крестиком, а новый выбранный ответ обведите кружком.

Предупреждаем Вас, что:

- при оценке тестовых заданий, где необходимо определить *один правильный ответ*, 0 баллов выставляется как за неверный ответ, а также, если участником отмечены несколько ответов (в том числе правильный), или все ответы;
- при оценке тестовых заданий, где необходимо определить *все правильные ответы*, 0 баллов выставляется, если участником отмечены более 2-х ответов, или все ответы (в том числе правильные).

Задание теоретического тура считается выполненным, если Вы вовремя сдаете его членам жюри.

Желаем вам успеха!

Общая оценка результата участника 100 баллов

Всероссийская олимпиада школьников 2025-2026 учебный год
Школьный этап. ОБЖ, 5-6 классы, ЗАДАНИЯ, ТЕОРИЯ
Время выполнения 45 мин. Максимальное кол-во баллов – 100

Все ответы перенести в бланк для ответов!

ЗАДАНИЕ 1. Максимальный балл – 30.

Дайте определение:

Опасная ситуация - *сбоку курности*

Безопасность – *когда за человеком не кто не следит.*

Заполните таблицу:

Какие виды опасностей нас могут подстерегать?

Причина опасности	Последствия
огонь	<i>пожар</i>
<i>столкновение</i> +	авария
природа	<i>загрязнение</i>
<i>ток</i> +	замыкание
газ	<i>задымление</i>
<i>вода</i> +	затопление, можно утонуть
холод	<i>шароз</i>

Заполните схему:




ЗАДАНИЕ 2. Максимальный балл – 20.

Заполните таблицу, вставив название грибов. Ядовитые грибы отметьте +

- Опенок
- Сыроежка
- Мухомор
- Волнушка
- Бледная поганка

Лесные грибы

Название гриба	Рисунок гриба
1 <i>мухомор</i> +	

<p>2</p> <p><i>вошущика</i></p> <p>+</p>	
<p>3</p> <p><i>бледная поганка</i></p> <p>-</p>	
<p>4</p> <p><i>скривилка</i></p> <p>-</p>	
<p>5</p> <p><i>отёлок</i></p> <p>+</p>	

ЗАДАНИЕ 3. Максимальный балл – 35.


3.1. Разгадайте ребусы.






3.2. Распределите дорожные знаки по группам:

Запрещающие знаки: 3, 5, 6, 4
 Предупреждающие знаки: 1, 4, 8
 Предписывающие знаки: 2



Задание 3.3. Объясните сигналы регулировщика:



Дайте определение: регулировщик ПДД -

нельзя ездить
 а) трамваем, машинами ~~модел~~
 б) можно ездить - трамваем, машинами, моделями.
 в) регулировщик стоит между парками, лавками, скамейками

Всероссийская олимпиада школьников 2025-2026 учебный год
Школьный этап. ОБЖ, 5-6 классы, ЗАДАНИЯ, ТЕОРИЯ

ТЕСТОВЫЕ ЗАДАНИЯ

№ п/п	Вопрос		ответы
1	Где находится родина первого в мире светофора? А) в Голландии Б) в России <input checked="" type="radio"/> В) в Англии Г) в Италии	1	0 ...
2	Сколько сигналов имеет светофор для пешеходов? А) один Б) два <input checked="" type="radio"/> В) три Г) ни одного	1	0 ...
3	Если светофор не исправен, кто регулирует движение на проезжей части? <input checked="" type="radio"/> А) инспектор ГИБДД Б) регулировщик В) полицейский Г) дорожный рабочий	1	1 ...
4	Можно ли ходить по обочине дороги: А) нельзя в темное время суток, в светлое — можно Б) можно, если на дороге нет автомобилей В) если нет тротуара, то можно идти по обочине навстречу транспорту <input checked="" type="radio"/> Г) если нет тротуара, то можно идти по обочине по ходу движения транспорта	1	1 ...
5	Какой перекресток называется регулируемым: А) на котором есть специальное объявление <input checked="" type="radio"/> Б) на котором есть регулировщик или установлен светофор В) на котором нарисована зебра Г) каждый перекресток.	1	1 ...
6	Ты зашёл в подъезд, услышал громкие голоса и понял, что выше находится пьяная компания. Что делать? <input checked="" type="radio"/> А) вернусь к друзьям ; Б) буду ждать знакомого соседа и попрошу проводить до квартиры; В) буду ждать, пока компания уйдёт; Г) буду кричать на улице	1	1 ...
7	Что делать, если на человеке загорелась одежда? А) дуть на горящую одежду; <input checked="" type="radio"/> Б) горящего человека надо остановить любым способом - грозно окрикнуть, повалить наземь, набросить любую плотную ткань; В) забросать землёй; Г) полить обильно водой.	1	1 ...
8	При вызове службы безопасности сообщите следующие сведения: А) адрес соседей; <input checked="" type="radio"/> Б) адрес, объект (во дворе, в квартире, в подвале и т.д), номер	1	1 ...

	дома, подъезда, квартиры, свою фамилию и телефон; В) только причину обращения в службу безопасности; Г) только номер дома.		
9	Единый номер вызова экстренной службы. А) 103; Б) 101; В) 102; Г) 112.	1	...
10	Что такое ЧС? А) частная собственность; Б) это обстановка, сложившаяся на определенной территории в результате аварии, опасного природного явления, катастрофы, стихийного бедствия, которая может повлечь за собой человеческие жертвы, ущерб окружающей среде, нарушение условий жизнедеятельности людей; В) честное слово; Г) событие техногенного характера.	1	...
11	Как вы понимаете слово «жизнедеятельность»? Выберите правильный ответ: А) пребывание; Б) наслаждение; В) обретение; Г) существование	1	...
12	К чему может привести, если использовать электроприбор с поврежденной изоляцией шнура? А) сгорит прибор; Б) сгорят предохранители; В) к короткому замыканию из-за чего может произойти пожар Г) к депрессии.	1	...
13	Какой вид транспорта представляет наибольшую опасность? А) Автомобильный Б) Железнодорожный В) Воздушный Г) Водный	1	...
14	Дополните фразу: «Ситуации, в которых нарушена или фактически невозможна нормальная жизнедеятельность большого количества людей на большой территории, называется _____» А) опасной Б) экстремальной В) обычной Г) чрезвычайной	1	...
15	Что необходимо предпринять при пищевом отравлении? А) следует прополоскать рот марганцовкой и плотно поесть Б) следует прополоскать рот пищевой содой и выпить крепкий сладкий чай с сухарями В) следует быстро удалить пищу из желудка: выпить несколько стаканов воды и вызвать рвоту (эффект двух пальцев) Г) выпить слабый раствор уксусной кислоты.	1	...

**Олимпиадные задания по ОБЗР (школьный этап 5-6 классы)
2025-2026 учебный год**

Эта часть работы содержит задания с выбором одного варианта ответа. К каждому заданию дается несколько вариантов ответа, один из которых — верный. Внимательно прочитайте каждое задание и все варианты ответов. Отметьте знаком «+» выбранный вами вариант ответа.

№	Тестовые задания	Макс балл	Порядок оценки тестовых заданий
	<p>Какой свет светофора виден со всех сторон перекрестка? а) красный; б) желтый; в) зеленый; + г) белый.</p>	2,0	За неправильный ответ выставляется – 0 баллов
2.	<p>С какой стороны пассажир обязан совершать посадку в автомобиль и высадку из автомобиля? а) сзади транспортного средства; б) со стороны тротуара или обочины; в) со стороны проезжей части.</p>	2,0	За неправильный ответ выставляется – 0 баллов
3.	<p>Разрешается ли переходить проезжую часть пешеходу при приближении автомобиля с включенным проблесковым маячком синего цвета? а) разрешается; б) разрешается, если совместно с маячком дополнительно включен звуковой сигнал; в) запрещается.</p>	2,0	За неправильный ответ выставляется – 0 баллов
4.	<p>Разрешается ли на велосипеде перевозить пассажиров? а) да, только на багажнике; б) да, только на раме; в) не разрешается в любом случае; г) не разрешается, за исключением детей в возрасте до 7 лет на специально оборудованном дополнительном сидении.</p>	2,0	За неправильный ответ выставляется – 0 баллов
5.	<p>При устройстве шалаша крышу следует накрывать? а) сверху – вниз; б) справа – налево; в) снизу – вверх; г) безразлично как.</p>	2,0	За неправильный ответ выставляется – 0 баллов
6.	<p>Каковы требования к месту сооружения временного жилища: а) место среди сухостоя, который можно использовать для костра; б) ровная продуваемая ветром площадка, расположенная недалеко от водоёма; в) недалеко от дороги или проезжей тропы, вблизи много грибов и ягод.</p>	2,0	За неправильный ответ выставляется – 0 баллов
7.	<p>Дымом, какого цвета вы будете пользоваться для подачи сигналов бедствия в пасмурную погоду? а) любым; б) чёрным; в) белым.</p>	2,0	За неправильный ответ выставляется – 0 баллов
8.	<p>Почему не рекомендуется использовать осиновые и пихтовые дрова в засушливую погоду для костра? а) сухая осина сильно дымит; + б) они плохо горят в любую погоду; в) они стреляют искрами</p>	2,0	За неправильный ответ выставляется – 0 баллов

9.	Какой лед наиболее прочен: а) белого цвета; б) имеющий синеватый или зеленоватый оттенок; в) матовый.	2,0	За неправильный ответ выставляется – 0 баллов
10.	Что говорит о том, что консервы испорчены? а) вздутие крышки, восстанавливающееся после нажатия; б) ржавчина на банке; в) бульканье; +	2,0	За неправильный ответ выставляется – 0 баллов
11.	Можно ли перевезти на велосипеде удочку длиной 4 метра? + а) нет; б) да; в) да, вертикально г) да, но необходимо обозначить края удочки кусками красной материи	2,0	За неправильный ответ выставляется – 0 баллов
12.	Можно ли ходить вдоль железнодорожных путей? а) можно не ближе 5 метров от крайнего рельса; б) можно, если есть тропинка вдоль ж.д. путей; + в) нельзя ни при каких обстоятельствах	2,0	За неправильный ответ выставляется – 0 баллов
13.	В случае аварии, выбравшись из автомобиля, в первую очередь необходимо: а) осмотреть место происшествия и проанализировать ситуацию; + б) отойти от автомобиля на безопасное расстояние; в) осмотреть себя на предмет ранений и травм	2,0	За неправильный ответ выставляется - 0 баллов
14.	Что нужно сделать, обнаружив предмет, похожий на взрывное устройство? а) взять его домой, чтобы дома внимательно рассмотреть; б) позвать друзей и рассмотреть вместе; + в) не трогать его, предупредить окружающих людей, сообщить в полицию	2,0	За неправильный ответ выставляется - 0 баллов
15.	По какой стороне дороги вы будете вести неисправный велосипед за городом: + а) навстречу движения транспорта; б) в направлении движения транспорта; в) не имеет значения.	2,0	За неправильный ответ выставляется - 0 баллов
16.	Зачем нужно знать свой организм? + а) чтобы сохранять и укреплять здоровье; б) чтобы человек мог мыслить, говорить, трудиться; в) чтобы умело использовать свои возможности.	2,0	За неправильный ответ выставляется - 0 баллов
17.	В какой строчке указаны слова, описывающие здорового человека? а) сутулый, крепкий, неуклюжий, высокий; б) горбатый, бледный, хилый, низкий; в) стройный, сильный, ловкий, статный.	2,0	За неправильный ответ выставляется - 0 баллов
18.	Главные принципы рационального питания – это: а) энергетическое равновесие; б) высокое потребление сахара; в) сбалансированное питание;	2,0	За неправильный ответ выставляется - 0 баллов
19.	В какой стране прошли XXII зимние Олимпийские игры? А) Испания Б) Россия, + В) Швейцария	2,0	За неправильный ответ выставляется - 0 баллов
20.	В каком городе России прошли зимние олимпийские игры 2014 года? А) Екатеринбург Б) Ханты-Мансийск + В) Сочи	2,0	За неправильный ответ выставляется - 0 баллов
ИТОГО:		40	Общий итоговый балл определяется суммой баллов, полученных за каждое тестовое задание

ОЛИМПИАДНЫЕ ТЕОРЕТИЧЕСКИЕ ЗАДАНИЯ по ОБЗР (школьный этап 5-6 класс)

2025-2026 учебный год

Эта часть работы содержит теоретические задания. Вам предлагается дать свой вариант ответа на данные вопросы.

№	Тестовые задания	Макс балл	Порядок оценки тестовых заданий
1.	Кукую ситуацию принято называть чрезвычайной? <i>опасную</i>	3	За неправильный ответ выставляется -0 баллов
2.	Вам необходимо перейти проезжую часть улицы на регулируемом пешеходном переходе. Начали переход улицы – замигал зеленый свет светофора. Ваши действия	3	3
3.	Согласно правилам дорожного движения со сколько лет разрешается управлять мопедом при движении по дорогам?	3	3 <i>с 16 лет +</i>
4.	При просмотре телепередачи пропало изображение, а из телевизора пошел дым. Каковы ваши действия в данной ситуации?	3	3 <i>пожарить -</i>
5.	Вы с улицы вошли в подъезд и ощутили сильный запах дыма. Ваши действия?	3	3 <i>пожарить по порядку</i>
6.	Вы опускаетесь на эскалаторе в метро. Неожиданно роняете пакет, и он скользит по ступенькам вниз. Ваши действия	3	3 <i>взять пакет, пойти к лифту и</i>
7.	Как следует переходить дорогу после выхода из автобуса?	3	3 <i>зрительно проверить движение транспорта на право и перед собой</i>
8.	Совместно с родителями и соседями вам удалось ликвидировать пожар в квартире. Нужно ли после этого вызывать пожарную команду?	3	3 <i>нужно вызвать пожарную</i>
9.	Почему во время пожара нельзя пользоваться лифтом?	3	3 <i>может застрять</i>
10.	Какой биологический объект, растущий в лесу, в наибольшей степени накапливает радиоактивные вещества	3	3
11.	Какую одежду лучше выбрать для похода в лес: камуфляж или яркую желтую курточку? Почему?	3	3 <i>Замуфлировать, око будет мешаться</i>
12.	Как правильно вести себя при встрече с медведем?	3	3 <i>и смириться на него и медведю угрожать</i>
13.	К каким последствиям приводят укусы насекомых? (пчел, ос, шершней)	3	3 <i>накрыть и медведю и обработать</i>
14.	Дайте определение понятия «Здоровый образ жизни»	3	3 <i>Здоровый человек правильно питается</i>
15.	Что такое психоактивные вещества?	3	3
16.	Как правильно преодолевать болота?	3	3 <i>пойти с другой стороны болота с другой стороны</i>
17.	Какие виды автономии бывают и в чем их различие?	3	3
18.	Как вы считаете, с северной или южной стороны: -глубее и толще кора больших деревьев? -светлее кора у березы? -муравейник располагается около деревьев и пней? -пологий и крутой скат муравейника?	3	3
19.	Как поступить, если вы не хотите, чтобы огонь костра был виден со стороны?	3	3 <i>Зрость сжигать медведю</i>
20.	Запишите признаки попадания инфекции в рану?	3	3 <i>место покраснела</i>
ИТОГО:		60	Общий итоговый балл определяется суммой баллов, полученных за каждое тестовое задание

Всероссийская олимпиада школьников

по ОБЗР

ученицы 10 класса

Райшевой Мелани.

38 + 14 = 52

Всероссийская олимпиада школьников 2025-2026 учебный год
Школьный этап. ОБЖ, 10-11 классы, **ЗАДАНИЯ**
Время выполнения 45 мин+ 15 минут. Максимальное кол-во баллов – 100+100=200

ТЕОРЕТИЧЕСКИЙ ТУР

Уважаемый участник Олимпиады!

Вам предстоит выполнить теоретические и тестовые задания.

Выполнение теоретических заданий целесообразно организовать следующим образом:

- не спеша, внимательно прочитайте задание и определите, наиболее верный и полный ответ;
- отвечая на теоретический вопрос, обдумайте и сформулируйте конкретный ответ только на поставленный вопрос;
- если вы отвечаете на задание, связанное с заполнением таблицы или схемы, не старайтесь детализировать информацию, вписывайте только те сведения или данные, которые указаны в вопросе;
- особое внимание обратите на задания, в выполнении которых требуется выразить ваше мнение с учетом анализа ситуации или поставленной проблемы. Внимательно и вдумчиво определите смысл вопроса и логику ответа (последовательность и точность изложения). Отвечая на вопрос, предлагайте свой вариант решения проблемы, при этом ответ должен быть кратким, но содержать необходимую информацию;
- после выполнения всех предложенных заданий еще раз удостоверьтесь в правильности выбранных вами ответов и решений.

Выполнение тестовых заданий целесообразно проводить следующим образом:

- не спеша, внимательно прочитайте тестовое задание;
- определите, какой из предложенных вариантов ответа наиболее верный и полный;
- обведите кружком букву, соответствующую выбранному вами ответу;
- продолжайте таким образом работу до завершения выполнения тестовых заданий;
- после выполнения всех предложенных заданий еще раз удостоверьтесь в правильности выбранных вами ответов и перенесите их в бланк для ответов;
- если потребуется корректировка выбранного Вами варианта ответа, то неправильный вариант ответа зачеркните крестиком, а новый выбранный ответ обведите кружком.

Предупреждаем Вас, что:

- при оценке тестовых заданий, где необходимо определить *один правильный ответ*, 0 баллов выставляется как за неверный ответ, а также, если участником отмечены несколько ответов (в том числе правильный), или все ответы;
- при оценке тестовых заданий, где необходимо определить *все правильные ответы*, 0 баллов выставляется, если участником отмечены более 2-х ответов, или все ответы (в том числе правильные).

Задание теоретического тура считается выполненным, если Вы вовремя сдаете его членам жюри.

Желаем вам успеха!

Общая оценка результата участника 100 баллов

ТЕОРЕТИЧЕСКИЕ ЗАДАНИЯ

ЗАДАНИЕ 1 Максимальный балл -30

1.1 Назовите факторы риска для здоровья, связанные с урбанизацией (ростом городов и городского населения).

- Изменение микроклимата.
- Загрязнённость естественной среды городов.
- Шум, вибрация.
- Возрастание темпа и напряжённости жизни, приводящее к стрессовым состояниям.
- Большая плотность населения.
- Большое количество транспорта.

1.2. Каковы основные признаки отравления человека никотином?

1) Покраснение лица, повышение температуры тела.

- Кашель, тошнота.
- Головокружение.
- Горечь во рту.
- Снижение остроты зрения.
- Отсутствие аппетита.

1.3. Какую помощь необходимо оказать пострадавшему при алкогольном отравлении?

- Положить на живот горячую грелку.
- Уложить набок и очистить дыхательные пути, а также промыть желудок.
- Дать выпить большое количество (2-3 литра) воды.
- Положить на голову холодный компресс и вызвать «скорую помощь».
- Дать понюхать ватку, смоченную нашатырным спиртом.
- Дать выпить кофе и накрыть одеялом.

1.4. Какую помощь следует оказать пострадавшему при наркотическом отравлении?

- 1) Уложить пострадавшего на спину.
- 2) Поместить пострадавшего в тёплое помещение.
- 3) Очистить дыхательные пути пострадавшего.
- 4) Растереть пострадавшего одеколоном или спиртом.
- 5) Уложить пострадавшего на бок или живот.
- 6) Дать понюхать пострадавшему ватку, смоченную в нашатырном спирте и вызвать «скорую помощь».

• Какую помощь необходимо оказать пострадавшему при отравлении лекарственными препаратами?

- 1) Дать обезболивающее средство.
- 2) Вызвать «скорую помощь».
- 3) Промыть пострадавшему желудок.
- 4) Сделать искусственное дыхание.
- 5) Дать пострадавшему крепкого чая (кофе) и чёрных сухарей.
- 6) Дать выпить стакан молока.

Оценочные баллы: максимальный – 30 баллов; фактический - 16 баллов

ЗАДАНИЕ 2. Максимальный балл - 22

2.1. Дайте определение:

Туристская маркировка – это система специальных условных обозначений, которые относятся на шестигранные предметы для разметки туристских маршрутов

2.2. Напишите, что означают представленные ниже знаки туристской маркировки.

Знак	Характеристика
	<p>Достопримечательность</p> <p style="text-align: center;">+</p>
	<p>Памятник или памятное место</p> <p style="text-align: center;">+</p>
	<p>Брод</p> <p style="text-align: center;">+</p>
	<p>Аварийная остановка</p> <p style="text-align: center;">+</p>
	<p>Место для разведения костра</p> <p style="text-align: center;">+</p>
	<p>Тривал запрещен</p> <p style="text-align: center;">+</p>
	<p>Место опасное для купания</p> <p style="text-align: center;">+</p>
	<p>Тривал запрещено</p> <p style="text-align: center;">+</p>

2.3. Дайте определение:

Туризм - ^{временное перемещение людей с места своего постоянного проживания в другую страну или местность в целях отдыха в свободное время, чтобы получить удовольствие}

Оценочные баллы: максимальный - 22 баллов; фактический - 22 баллов

ЗАДАНИЕ 3. Максимальный балл - 28

3.1. Вставьте пропущенные фразы в текст.

Куликовская битва (1, укажите год) 1380 между русским войском во главе с великим князем (2) Дмитрием Ивановичем войском Золотой Орды под командованием темника (3) Мамая на Куликовом поле – одна из крупнейших битв, положившая начало освобождению народов Восточной Европы от (4) монголо-татарского иго. После Куликовской битвы Великий князь получил почетное прозвище (5) Долгой.

3.2. Заполните таблицу

№	Название награды	Статус награды
1	<u>Орден Александра Невского</u>	Советская награда времён <u>Великой Отечественной войны</u> . Учреждён указом Президиума Верховного Совета СССР от <u>29 июля 1942</u> одновременно с орденами <u>Суворова</u> и <u>Кутузова</u> для награждения командного состава <u>Красной Армии</u> за выдающиеся заслуги в организации и руководстве боевыми операциями и за достигнутые в результате этих операций успехи в боях за Родину. Этим орденом награждались командиры <u>дивизий, бригад, полков, батальонов, рот и взводов</u> .
2	<u>Орден Суворова</u>	Советская награда времён <u>Великой Отечественной войны</u> . Учреждён Указом Президиума Верховного Совета СССР от <u>29 июля 1942</u> года. Этим орденом награждались командиры Красной Армии за выдающиеся успехи в деле управления войсками, отличную организацию боевых операций и проявленные при этом решительность и настойчивость в их проведении, в результате чего была достигнута победа в боях за Родину в Отечественной войне. Также награждались войсковые части.
3	<u>Орден Ушакова</u>	Советская флотская награда времён <u>Великой Отечественной войны</u> . Учреждён <u>Указом Президиума ВС СССР от 3.03.1944</u> об учреждении военных орденов: этот орден и ордена <u>Нахимова I и II степени</u> , одновременно с <u>орденом Нахимова</u> специально для награждения офицеров Военно-Морского Флота. Этим орденом награждаются офицеры Военно-Морского Флота за выдающиеся успехи в разработке, проведении и обеспечении морских активных операций, в результате чего в боях за Родину была достигнута победа над численно превосходящим врагом.
4	<u>Орден Славы</u>	Военный орден СССР, учреждён <u>Указом Президиума ВС СССР от 8.11.1943</u> «Об учреждении ордена Славы I, II и III степени». Награждаются лица рядового и сержантского состава <u>Красной Армии</u> , а в <u>авиации</u> — и лица, имеющие звание <u>младшего лейтенанта</u> . Вручался только за личные заслуги, воинские части и соединения им не награждались. Орден Славы по своему <u>статуту</u> и цвету ленты почти полностью повторял одну из самых почитаемых в дореволюционной <u>России</u> наград — <u>Георгиевский крест</u> . Этим орденом награждаются лица рядового и сержантского состава Красной Армии, а в авиации и лица, имеющие звание младшего лейтенанта, проявившие в боях за Советскую Родину славные подвиги храбрости, мужества и бесстрашия. Этот орден состоит из трёх степеней: I, II и III степени. Высшей степенью ордена является I степень. Награждение производится последовательно: сначала третьей, затем второй и, наконец, первой степени.
5	Медаль «За отвагу»	

3.3. Ответьте на вопросы

1. За три недели до вторжения фашистов в нашу страну советский разведчик передал в Москву, что война начнется 22 июня. Кто был этим разведчиком?

Ответ: Рихард Зорге

2. Как назывался план вторжения в СССР?

Ответ: план „Барбаросса“

3. Что такое в военном деле «свинья», «клещи»? Ответ: боевой порядок войск

4. Какую военную операцию немецко-фашистское командование называло операцией «Тайфун»? Ответ: Наступление на Москву в 1941 г.

Оценочные баллы: максимальный – 28 баллов; фактический – ____ баллов

ТЕСТОВЫЕ ЗАДАНИЯ

№ п/п	Вопрос	Ответы кол-во	
1	Признаком отравления аммиаком не является: А) кашель, удушье; Б) насморк, покраснение кожи; В) химический ожог слизистых при вдыхании.	2	В
2	Включенные в сеть электроприборы запрещено тушить при помощи: А) воды; Б) одеяла; В) огнетушителя.	1	1
3	Линии, стрелы, надписи и другие обозначения, которые наносятся на различные элементы дороги – это: А) дорожная разметка; Б) пешеходный переход; В) дорожные знаки.	1	1
4	Признаками перелома являются: А) тошнота и рвота, нарушение функции конечности, ее деформация и подвижность; Б) нарушение функции конечности, сильная боль при попытке движения ею, деформация и некоторое ее укорочение, подвижность костей в необычном месте; В) временная потеря зрения и слуха, появление сильной боли при попытке движения конечностью.	1	1
5	При аварии на химическом предприятии, если отсутствуют индивидуальные средства защиты, убежище и возможность выхода из зоны аварии последовательность ваших действий: А) выключить радио, отойти от окон и дверей и загерметизировать помещение; Б) включить радио, перенести ценные вещи в подвал или отдельную комнату и подавать сигналы о помощи; В) включить радио и прослушать информацию, закрыть окна и двери, входные двери закрыть плотной тканью и загерметизировать помещение.	1	1
6	Выходить из зоны химического заражения следует: А) по направлению ветра; Б) навстречу потоку ветра; В) перпендикулярно направлению ветра.	1	1
7	К чрезвычайным ситуациям экологического характера относятся: А) образование обширной зоны кислотных осадков; Б) прорыв дамбы, плотины; В) гибель растительности на обширной территории;	2	2

	Г) лесной пожар.		
8	<p>Из нижеперечисленных объектов выберите те, которые могут являться линейными ориентирами:</p> <p><input type="radio"/> А) линии электропередач и дороги;</p> <p><input type="radio"/> Б) летящий самолет;</p> <p><input type="radio"/> В) движущийся автотранспорт и сельскохозяйственная техника;</p> <p><input type="radio"/> Г) граница леса, просека.</p>	2	2
9	<p>Где разрешается размещать ручную кладь пассажиру во время перелёта?</p> <p><input type="radio"/> А) под своими ногами;</p> <p><input checked="" type="radio"/> Б) под сиденьем впереди стоящего кресла;</p> <p><input type="radio"/> В) в проходе справа от сиденья</p> <p><input type="radio"/> Г) на полке, расположенной над местом пассажира.</p>	2	2
10	<p>Какие существуют варианты эвакуационных мероприятий в зависимости от охвата ими населения?</p> <p><input type="radio"/> А) общая эвакуация;</p> <p><input type="radio"/> Б) экстренная эвакуация;</p> <p><input type="radio"/> В) временная эвакуация;</p> <p><input checked="" type="radio"/> Г) частичная эвакуация</p>	2	0
11	<p>По команде выйти из строя, сколько шагов выполняет военнослужащий:</p> <p><input type="radio"/> А) 2 шага;</p> <p><input checked="" type="radio"/> Б) 3 шага;</p> <p><input type="radio"/> В) 1 шаг;</p> <p><input type="radio"/> Г) 4 шага;</p>	1	0
12	<p>Во время движения в салоне автобуса начался пожар. Каковы ваши действия?</p> <p><input type="radio"/> А) не предупредив водителя, попытаетесь потушить огонь с помощью огнетушителя или накрыть верхней одеждой очаг возгорания;</p> <p><input checked="" type="radio"/> Б) разобьёте боковое окно транспортного средства;</p> <p><input type="radio"/> В) предупредив водителя, попытаетесь по возможности потушить огонь с помощью огнетушителя, если он есть в салоне, или накрыть верхней одеждой очаг возгорания;</p> <p><input type="radio"/> Г) займёте место в салоне подальше от места возгорания.</p>	1	1
13	<p>При пожаре в самолёте, находящемся в аэропорту, необходимо:</p> <p><input type="radio"/> А) защититься одеждой, пригнуться и ждать, пока потушат пожар или вас выведут из горящего самолёта;</p> <p><input checked="" type="radio"/> Б) защититься одеждой и, низко пригнувшись, пробираться к выходу;</p> <p><input type="radio"/> В) бежать к выходу, чтобы как можно быстрее покинуть самолёт;</p> <p><input type="radio"/> Г) лечь на пол самолёта и ждать команду на эвакуацию.</p>	1	1
14	<p>Что нужно сделать в первую очередь при нахождении в местах массового скопления людей, чтобы при возникновении чрезвычайной ситуации не попасть в толпу?</p> <p><input type="radio"/> А) Вести себя как обычно, быть ближе к тем, с кем общаешься;</p> <p><input type="radio"/> Б) Изучать правила безопасного поведения;</p>	1	0

	<p>В) Приготовить мобильный телефон; Г) Заранее наметить пути возможного отхода.</p>		
15	<p>Количественные нормы загрязняющих атмосферу, почву и воду химических веществ носят название: А) предельно допустимые низкие концентрации; Б) предельно допустимые нормы количества; В) предельно допустимые нормы концентрации;</p>	1	